

Nom – Prénom : _____

MATHÉMATIQUES


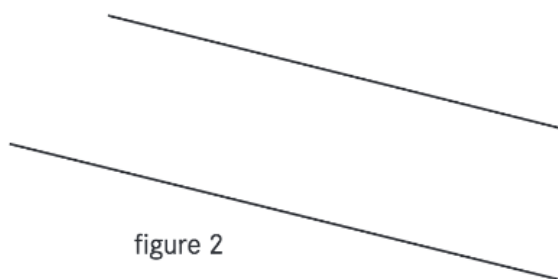
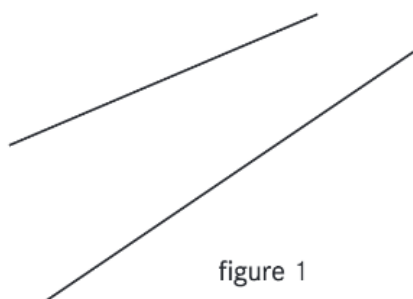
Géométrie et Espace CM1 - « Je m'entraîne »

JE M'ENTRAÎNE	COMPÉTENCE	CODE
GE2	Je reconnais et trace des droites parallèles.	

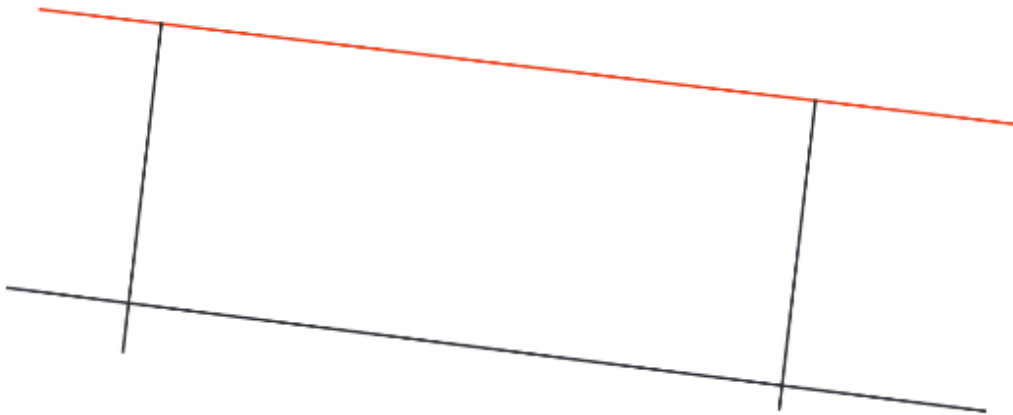
Exercice 1:

a. A l'œil, quelles sont les figures où les droites te semblent parallèles ?.....


b. Utilise maintenant tes instruments pour savoir quelles sont les figures qui sont des droites parallèles :



Exercice 2 : Gaia a voulu tracer une droite parallèle à la droite rouge. Tous les tracés sont faits en noir.
Sa construction est-elle exacte ?.....



Exercice 3 : Trace la droite qui passe par le point A et qui est parallèle à la droite *d*.







Exercice 4 : Trace deux droites parallèles. L'écartement entre les deux droites doit être de 4 cm 5 mm.

Nom – Prénom : _____

MATHÉMATIQUES

Géométrie et Espace CM1 - « Je m'entraîne » **CORRIGES**


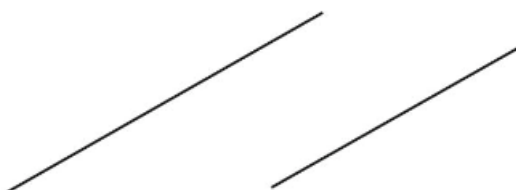
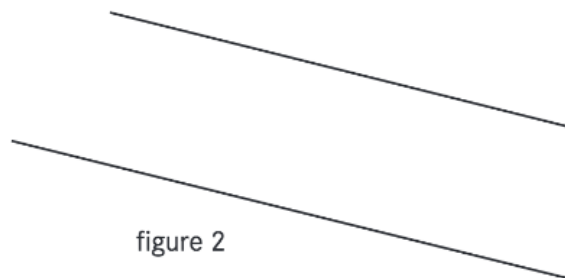
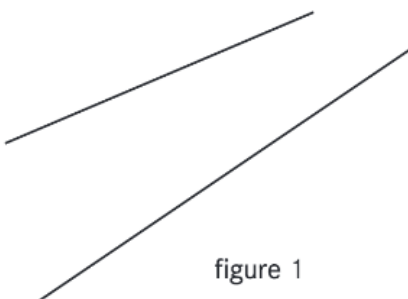
Nombre de réussites	4	3	1	0
Code de validation				

JE M'ENTRAINE	COMPÉTENCE	CODE
GE2	Je reconnais et trace des droites parallèles.	

Exercice 1 :

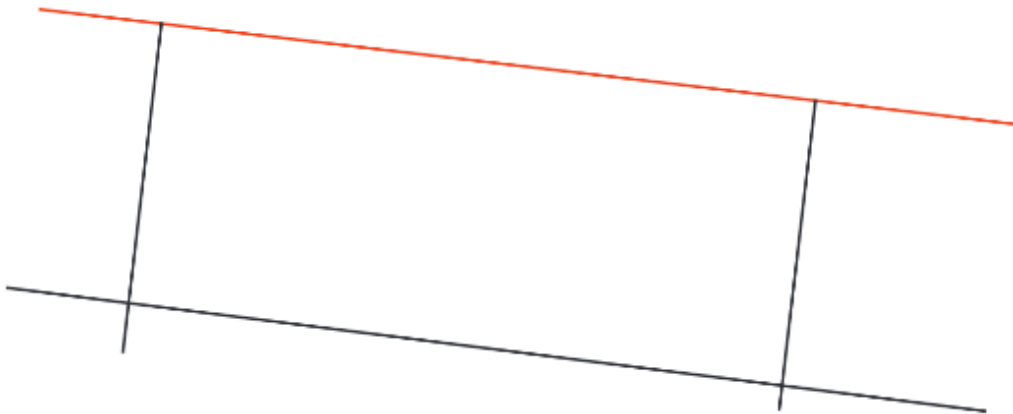
a. A l'œil, quelles sont les figures où les droites te semblent parallèles ?.....

b. Utilise maintenant tes instruments pour savoir quelles sont les figures qui sont des droites parallèles : **2 et 3**

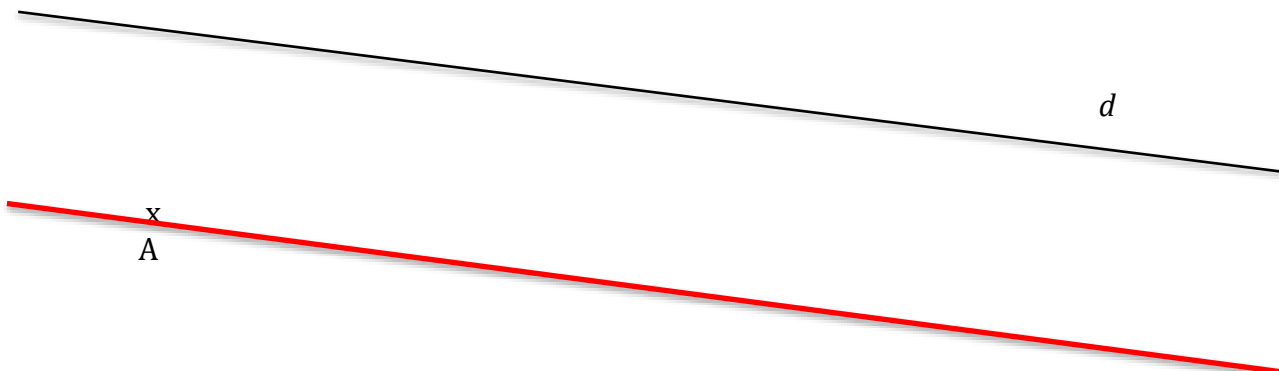


Exercice 2 : Gaia a voulu tracer une droite parallèle à la droite rouge. Tous les tracés sont faits en noir.

Sa construction est-elle exacte ? **Oui**



Exercice 3 : Trace la droite qui passe par le point A et qui est parallèle à la droite *d*.



Exercice 4 : Trace deux droites parallèles. L'écartement entre les deux droites doit être de 4 cm 5 mm.

