

Nom – Prénom : _____

MATHÉMATIQUES

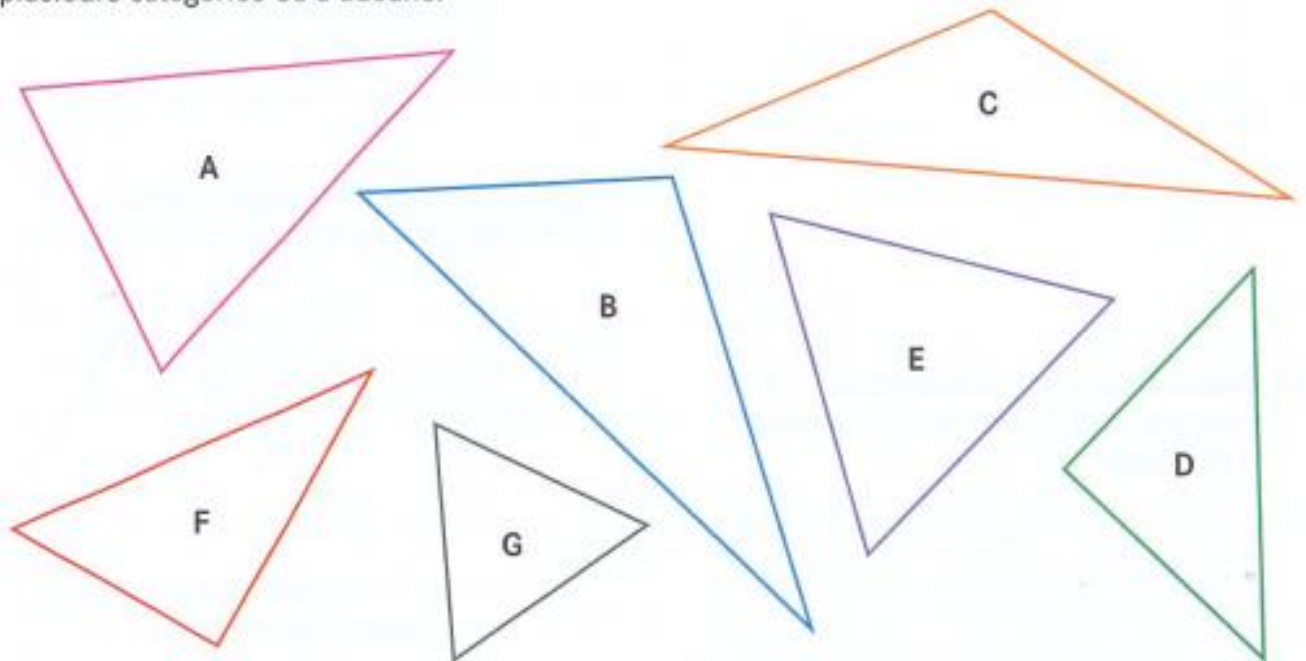
Géométrie et Espace CM2 - « Je m'entraîne »

JE M'ENTRAÎNE	COMPÉTENCE	CODE
GE4	Je décris et construis des triangles.	

Exercice 1 : Identifie les triangles.

- rectangles :
- isocèles :
- équilatéraux :

Attention, un même triangle peut appartenir à plusieurs catégories ou à aucune.



Exercice 2 : Construis un triangle isocèle : les deux côtés égaux mesurent 5 cm et l'autre coté mesure 4 cm 4 mm.

Exercice 3 : Construis un triangle équilatéral de côté 5 cm 2 mm.

Nom – Prénom : _____

MATHÉMATIQUES

Géométrie et Espace CM2 - « Je m'entraîne » **CORRIGÉS**

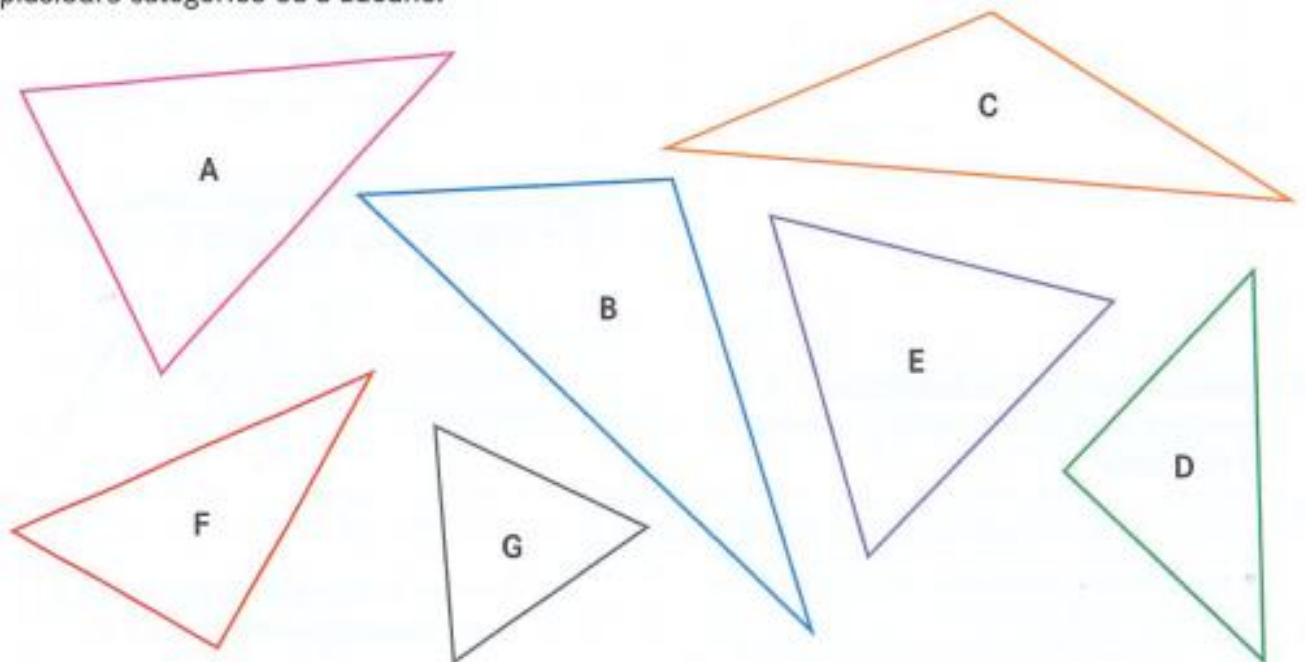
Nombre de réussites	9	De 7 à 8	De 3 à 6	< 3
Code de validation	●	●	●	●

JE M'ENTRAINE	COMPÉTENCE	CODE
GE4	Je décris et construis des triangles.	

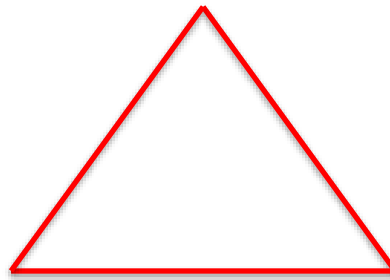
Exercice 1 : Identifie les triangles.

- rectangles : **F, D**
- isocèles : **A, D, C**
- équilatéraux : **E, G**

Attention, un même triangle peut appartenir à plusieurs catégories ou à aucune.



Exercice 2 : Construis un triangle isocèle : les deux côtés égaux mesurent 5 cm et l'autre coté mesure 4 cm 4 mm.



Exercice 3 : Construis un triangle équilatéral de côté 5 cm 2 mm.

