

Nom – Prénom : _____

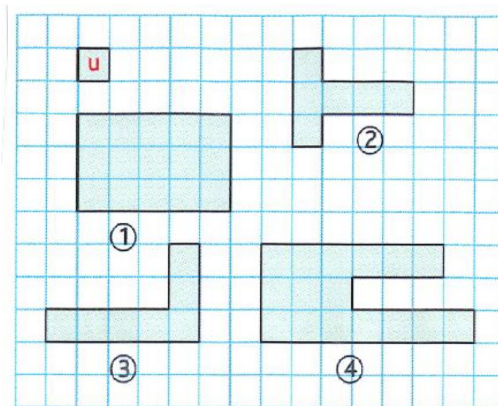
MATHÉMATIQUES

Grandeurs et mesures CM1 - « Je m'entraîne »

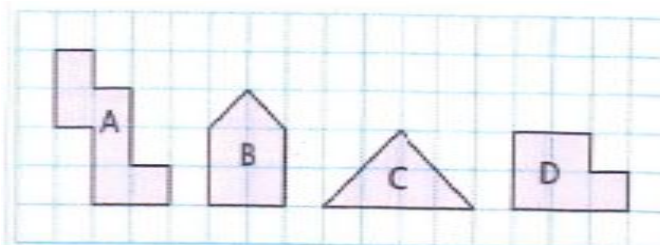
JE M'ENTRAÎNE	COMPÉTENCE	CODE
GM10	Je mesure et je compare des aires à l'aide d'un pavage.	

Exercice 1 : Mesure ces surfaces avec l'unité proposée.

1 : 2 : 3 : 4 :



Exercice 2 : Avec la même unité, mesure la surface de chaque figure et classe-les de la plus petite à la plus grande.



A : B : C : D :

.....

Exercice 3 : Colorie dans ton cahier :

- Un carré avec une surface de 9 carreaux
- Un rectangle avec une surface de 15 carreaux
- Une figure qui n'est ni un carré ni un rectangle avec une surface de 8 carreaux

Nom – Prénom : _____

MATHÉMATIQUES

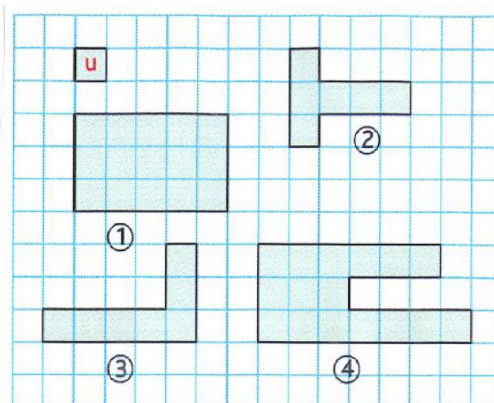
Grandeurs et mesures CM1 - « Je m'entraîne » **CORRIGES**

Nombre de réussites	16 ou 15	12 à 14	5 à 11	< 4
Code de validation	●	●	●	●

JE M'ENTRAÎNE	COMPÉTENCE	CODE
GM10	Je mesure et je compare des aires à l'aide d'un pavage.	

Exercice 1 : Mesure ces surfaces avec les unités proposées.

1 :15 u 2 :6u... 3 :7u..... 4 :16u.....



Exercice 2 : Mesure la surface de chaque figure et classe-les de la plus petite à la plus grande.

A : 6 u B : 5 u C : 4 u D : 5 u
C < B = D < A

Exercice 3 : Colorie dans ton cahier :

- Un carré avec une surface de 9 carreaux
- Un rectangle avec une surface de 15 carreaux
- Une figure qui n'est ni un carré ni un rectangle avec une surface de 8 carreaux