

Exercices Autocorrectifs « Je progresse »

1

Nombres et Calculs – CM2

JE PROGRESSE	COMPÉTENCE	CODE
F6	Je repère et je place des fractions décimales sur une ligne graduée.	

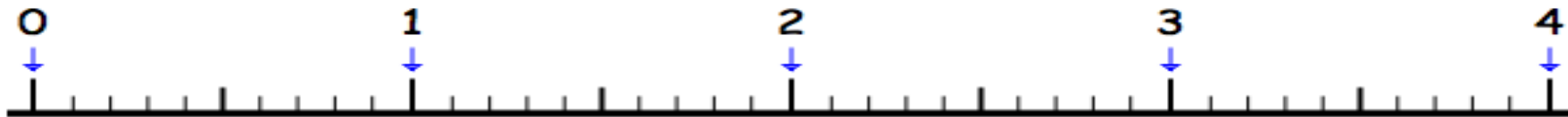
Exercice 1 : Place les lettres A, B, C et D qui correspondent aux nombres suivants.

A : $\frac{7}{10}$

B : $2 + \frac{2}{10}$

C : $\frac{28}{10}$

D : $\frac{35}{10}$



Exercice 2 : Retrouve sur la ligne graduée, les nombres qui permettent de repérer :

E : _____ F : _____ G : _____ H : _____



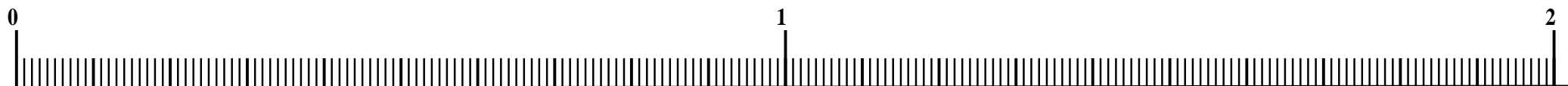
Exercice 3 : Place les lettres I, J, K et L qui correspondent aux nombres suivants.

$$I : \frac{54}{100}$$

$$J : 1 + \frac{21}{100}$$

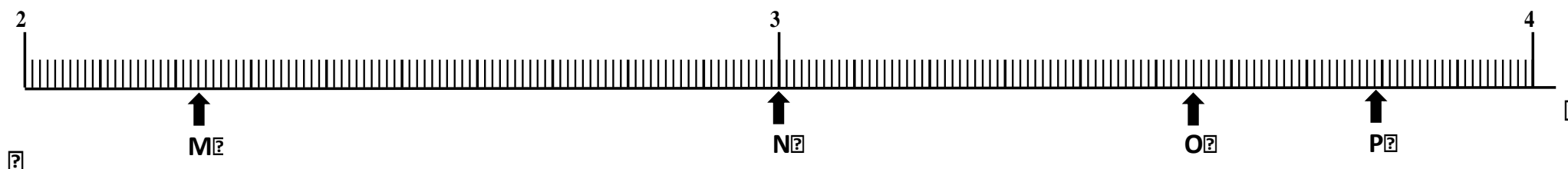
$$K : \frac{208}{100}$$

$$L : 1 + \frac{5}{10}$$



Exercice 4 : Retrouve sur la ligne graduée, les nombres qui permettent de repérer :

M : _____ N : _____ O : _____ P : _____



Exercices Autocorrectifs « Je progresse »

Nombres et Calculs – CM2

2

JE PROGRESSE	COMPÉTENCE	CODE
F6	Je repère et je place des fractions décimales sur une ligne graduée.	

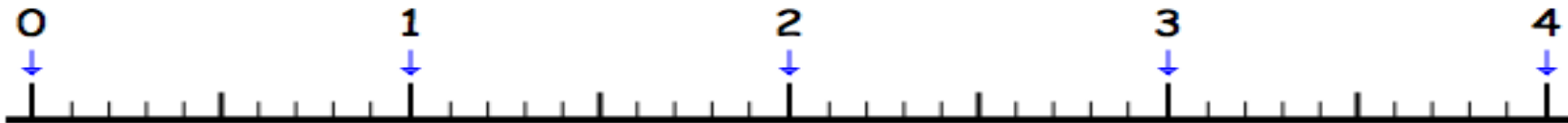
Exercice 1 : Place les lettres A, B, C et D qui correspondent aux nombres suivants.

A : $\frac{12}{10}$

B : $2 + \frac{8}{10}$

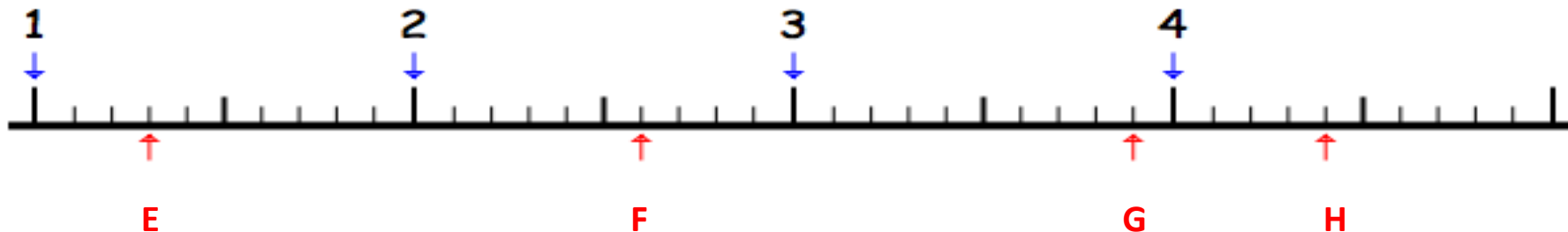
C : $3 + \frac{2}{10}$

D : $3 + \frac{9}{10}$



Exercice 2 : Retrouve sur la ligne graduée, les nombres qui permettent de repérer :

E : _____ F : _____ G : _____ H : _____



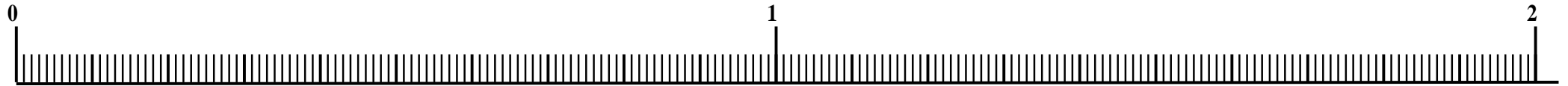
Exercice 3 : Place les lettres I, J, K et L qui correspondent aux nombres suivants.

$$I : \frac{34}{100}$$

$$J : 1 + \frac{12}{100}$$

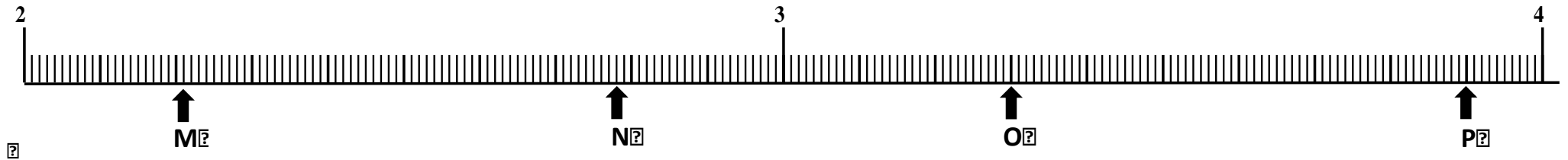
$$K : \frac{158}{100}$$

$$L : 1 + \frac{9}{10}$$



Exercice 4 : Retrouve sur la ligne graduée, les nombres qui permettent de repérer :

M : _____ N : _____ O : _____ P : _____



Exercices « EVALUATION »

E

Nombres et Calculs – CM2

JE M'EVALUE	COMPÉTENCE	CODE
F6	Je repère et je place des fractions décimales sur une ligne graduée.	

Exercice 1 : Place les lettres A, B, C et D qui correspondent aux nombres suivants.

A : $\frac{6}{10}$

B : $\frac{17}{10}$

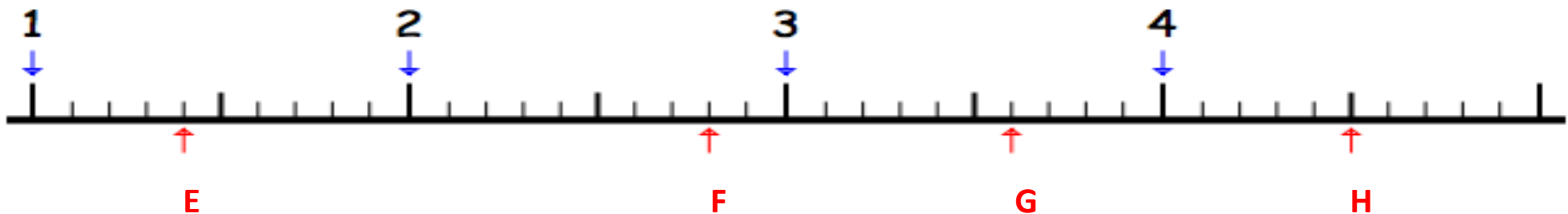
C : $3 + \frac{2}{10}$

D : $\frac{38}{10}$



Exercice 2 : Retrouve sur la ligne graduée, les nombres qui permettent de repérer :

E : _____ F : _____ G : _____ H : _____



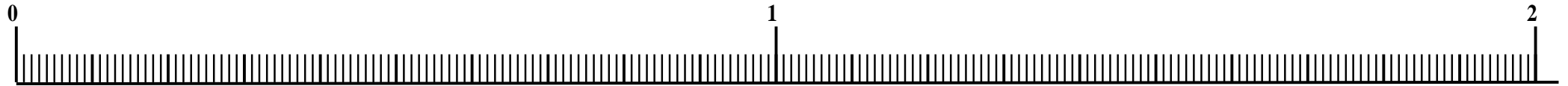
Exercice 3 : Place les lettres I, J, K et L qui correspondent aux nombres suivants.

$$I : \frac{19}{100}$$

$$J : 1 + \frac{48}{100}$$

$$K : \frac{118}{100}$$

$$L : 1 + \frac{2}{10}$$



Exercice 4 : Retrouve sur la ligne graduée, les nombres qui permettent de repérer :

M : _____ N : _____ O : _____ P : _____

