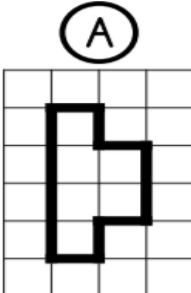


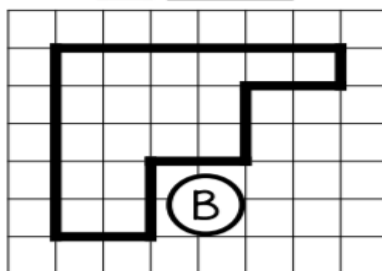
JE PROGRESSE	COMPÉTENCE	CODE
GM10	Je compare et je mesure des aires à l'aide d'un pavage.	

**Exercice 1 :** Exprime l'aire de chaque surface avec l'unité proposée.

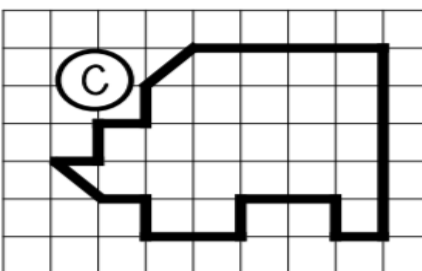


□ *unité 1*

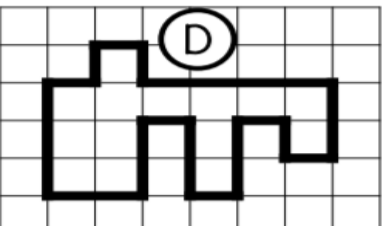
A = \_\_\_ unités d'aire



B = \_\_\_ unités d'aire




C = \_\_\_ unités d'aire



□ *unité 2*

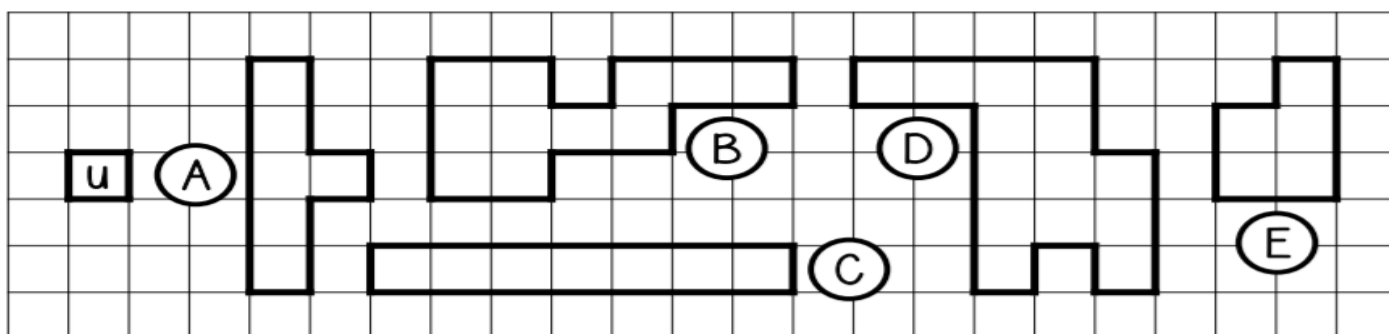
D = \_\_\_ unités d'aire



△ *unité 3*

E = \_\_\_ unités d'aire

**Exercice 2 :** Range ces surfaces de la plus petite à la plus grande.



A = \_\_\_ unités d'aire

B = \_\_\_ unités d'aire

C = \_\_\_ unités d'aire

D = \_\_\_ unités d'aire


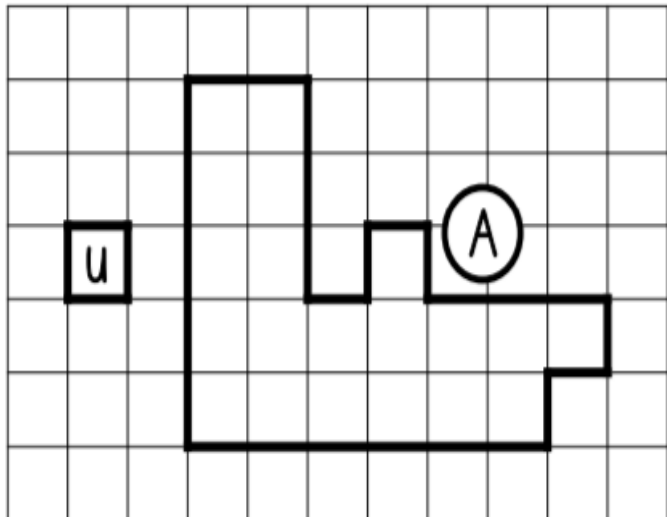
E = \_\_\_ unités d'aire

*Rangement*


\_\_\_ < \_\_\_ < \_\_\_ < \_\_\_ < \_\_\_

Exercice 3 : Observe la figure A puis trace les figures demandées.

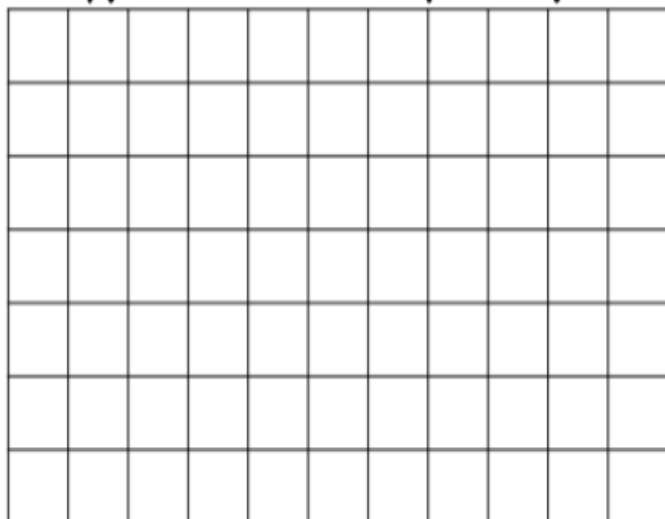
une figure qui a la même aire



une figure qui a une aire 2 fois plus petite



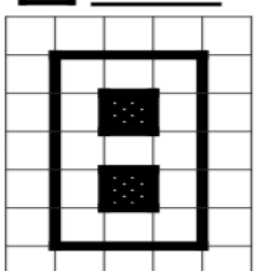
une figure qui a une aire 2 fois plus grande




JE PROGRESSE	COMPÉTENCE	CODE
GM8	Je compare et je mesure des aires à l'aide d'un pavage.	

**Exercice 1 :** Exprime l'aire de chaque surface avec l'unité proposée.


□ *unité 1*



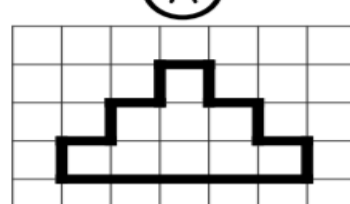
⊞ *unité 2*



⚡ *unité 3*

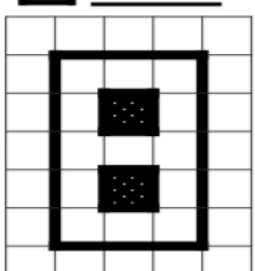


⊞ **A**



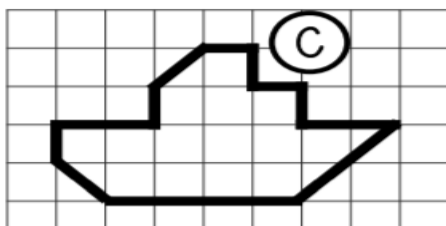
A = \_\_\_ unités d'aire

⊞ **B**



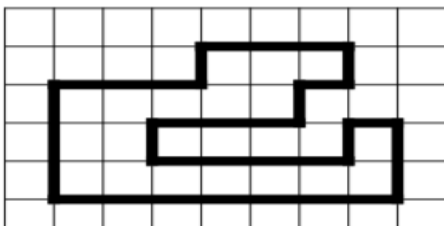
B = \_\_\_ unités d'aire

⊞ **C**




C = \_\_\_ unités d'aire

⊞ **D**



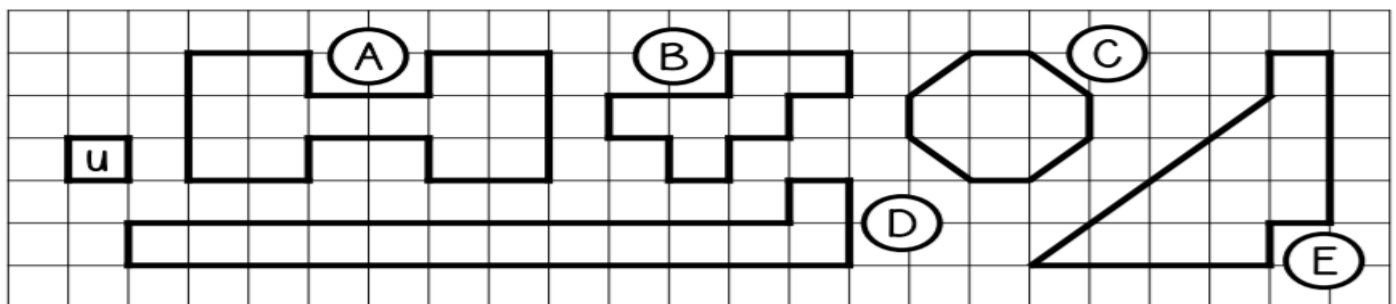
D = \_\_\_ unités d'aire

⚡ **E**



E = \_\_\_ unités d'aire

**Exercice 2 :** Range ces surfaces de la plus petite à la plus grande.



A = \_\_\_ unités d'aire

B = \_\_\_ unités d'aire

C = \_\_\_ unités d'aire

D = \_\_\_ unités d'aire

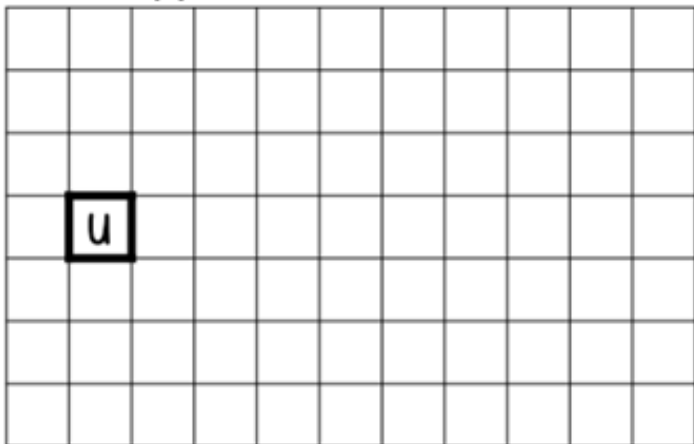
E = \_\_\_ unités d'aire

*Rangement*

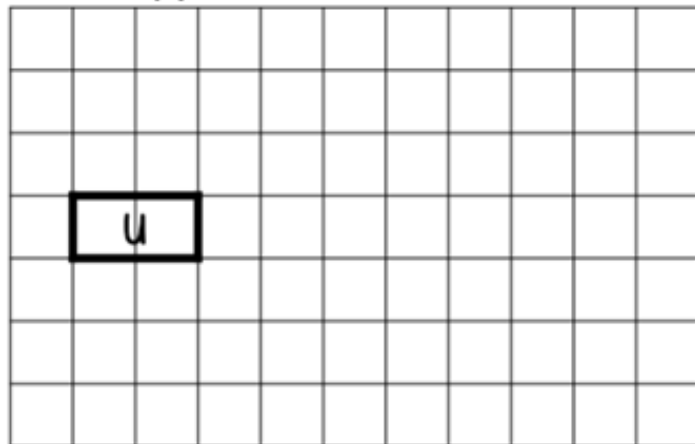
< < < < <

**Exercice 3 : Observe la figure A puis trace les figures demandées.**

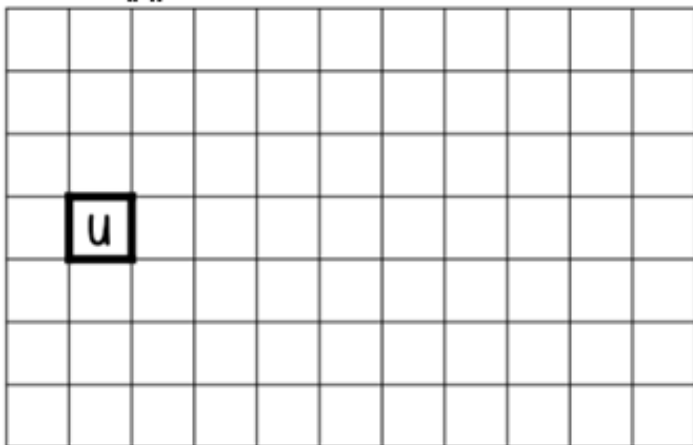
une figure dont l'aire mesure 9 u



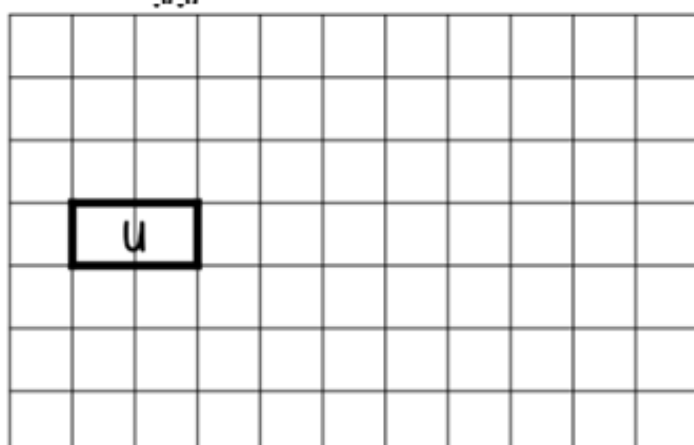
une figure dont l'aire mesure 6 u



une figure dont l'aire mesure 30 u



une figure dont l'aire mesure 5 u

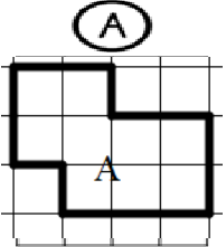


Exercices « EVALUATION »

Grandeurs et mesures – CM1

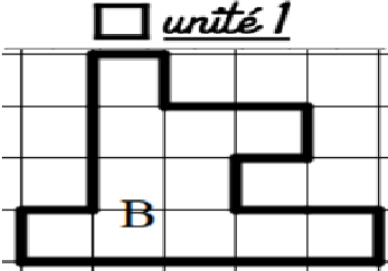
JE M'EVALUE	COMPÉTENCE	CODE
GM8	Je compare et je mesure des aires à l'aide d'un pavage.	

**Exercice 1 :** Exprime l'aire de chaque surface avec l'unité proposée.



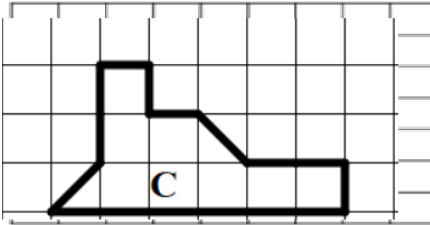
(A)

A = \_\_\_ unités d'aire

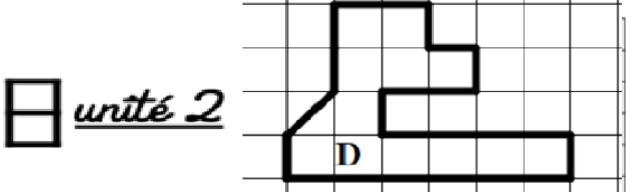


□ *unité 1*

B = \_\_\_ unités d'aire

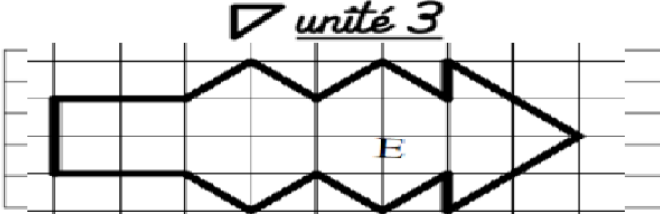


C = \_\_\_ unités d'aire



▭ *unité 2*

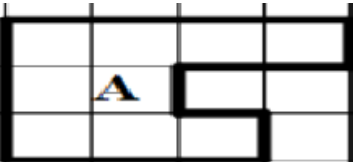
D = \_\_\_ unités d'aire



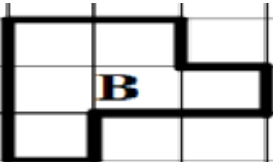
▴ *unité 3*

E = \_\_\_ unités d'aire


**Exercice 2 :** Range ces surfaces de la plus petite à la plus grande.



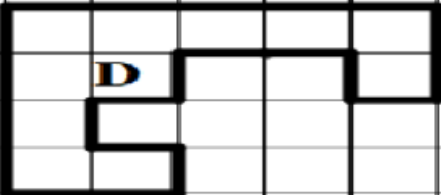
A



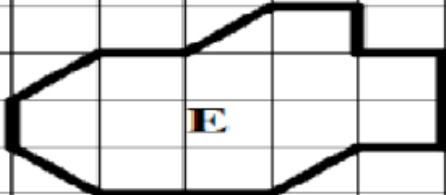
B



C



D



E

A = \_\_\_ unités d'aire

B = \_\_\_ unités d'aire

C = \_\_\_ unités d'aire

D = \_\_\_ unités d'aire

E = \_\_\_ unités d'aire


}

*Rangement*

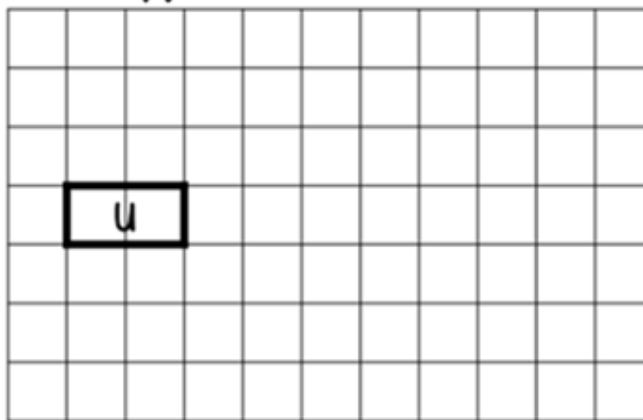
\_\_\_ < \_\_\_ < \_\_\_ < \_\_\_ < \_\_\_

Exercice 3 : Observe la figure A puis trace les figures demandées.

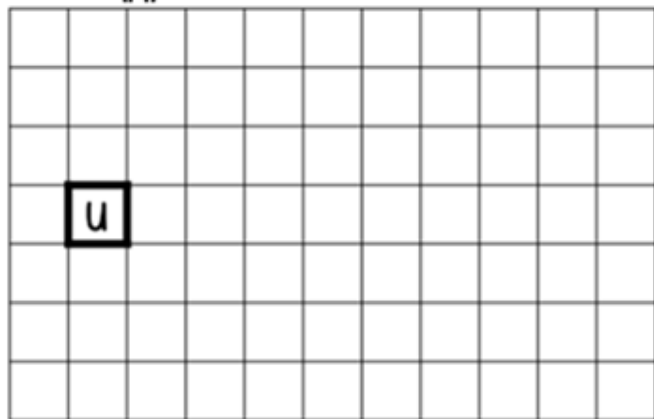
une figure dont l'aire mesure 35 u



une figure dont l'aire mesure 7 u



une figure dont l'aire mesure 23 u



une figure dont l'aire mesure 15 u

