

JE PROGRESSE	COMPÉTENCE	CODE
GM10	Je compare et je mesure des aires à l'aide d'un pavage.	

Exercice 1 : Exprime l'aire de chaque surface avec l'unité proposée.

□ *unité 1*

A = ___ unités d'aire B = ___ unités d'aire C = ___ unités d'aire

▭ *unité 2*

D = ___ unités d'aire

▴ *unité 3*

E = ___ unités d'aire

Exercice 2 : Range ces surfaces de la plus petite à la plus grande.

A = ___ unités d'aire

B = ___ unités d'aire

C = ___ unités d'aire

D = ___ unités d'aire

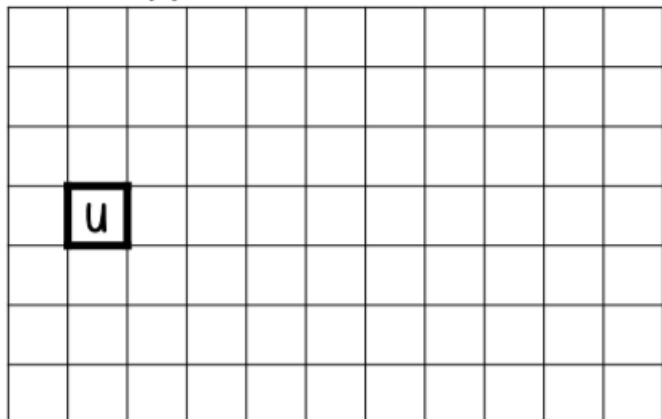
E = ___ unités d'aire

Rangement

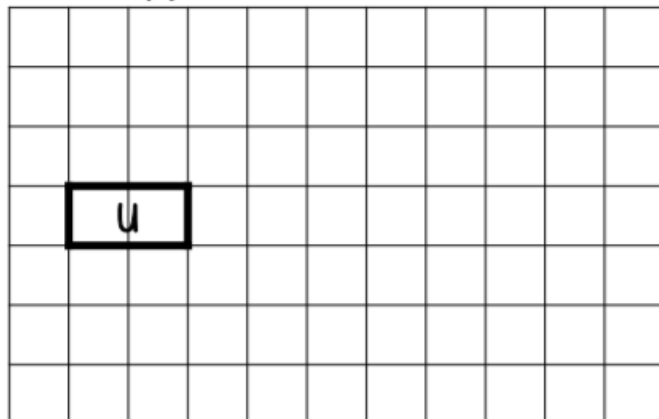
_____ < _____ < _____ < _____ < _____

Exercice 3 : Observe la figure A puis trace les figures demandées.


une figure dont l'aire mesure 9 u



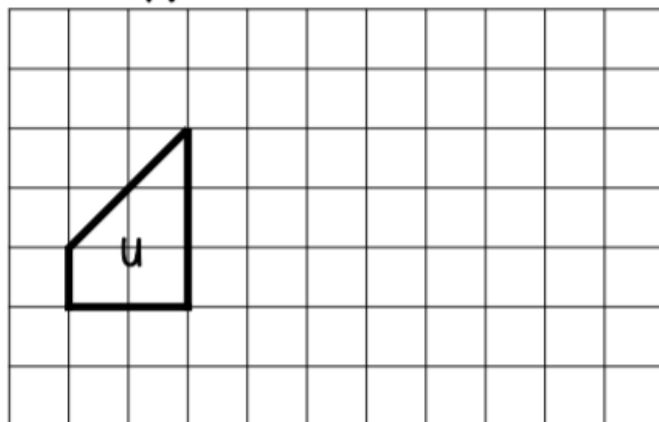
une figure dont l'aire mesure 6 u



une figure dont l'aire mesure 30 u



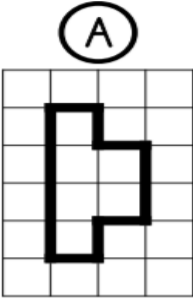
une figure dont l'aire mesure 5 u



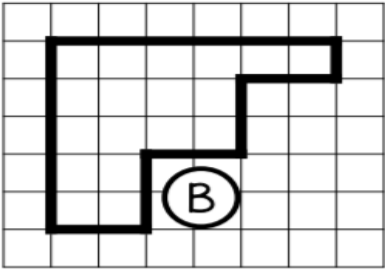
JE PROGRESSE	COMPÉTENCE	CODE
GM10	Je compare et je mesure des aires à l'aide d'un pavage.	

Exercice 1 : Exprime l'aire de chaque surface avec l'unité.

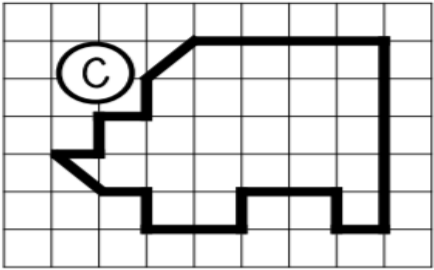
□ *unité 1*



A = ___ unités d'aire

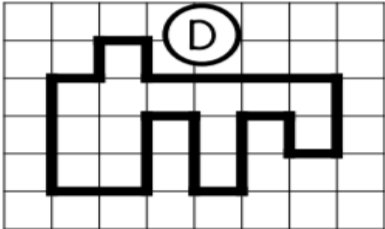


B = ___ unités d'aire



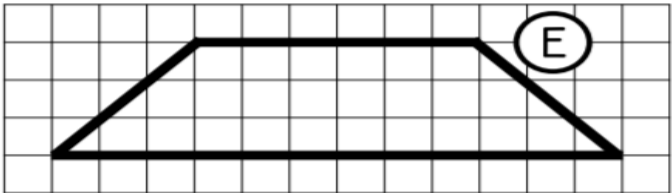
C = ___ unités d'aire

▢ *unité 2*



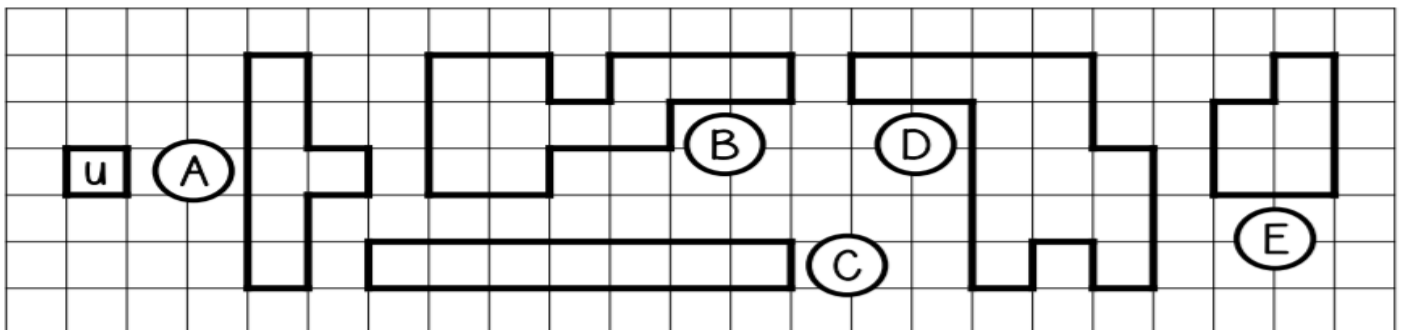
D = ___ unités d'aire

▵ *unité 3*



E = ___ unités d'aire

Exercice 2 : Range ces surfaces de la plus petite à la plus grande.



- A = ___ unités d'aire
- B = ___ unités d'aire
- C = ___ unités d'aire
- D = ___ unités d'aire
- E = ___ unités d'aire

Rangement

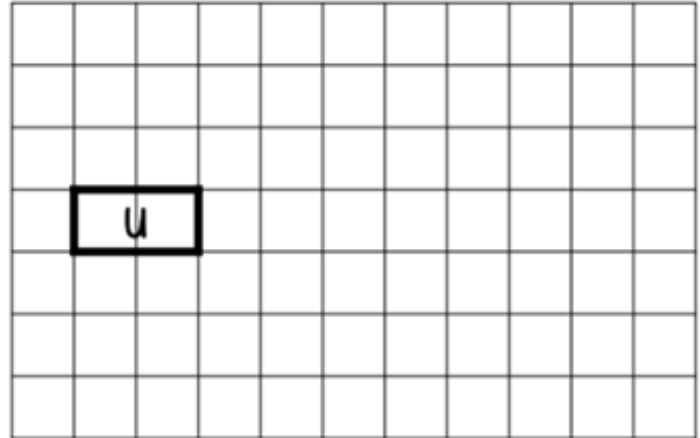
< < < < <

Exercice 3 : Observe la figure A puis trace les figures demandées.

une figure dont l'aire mesure 35 u



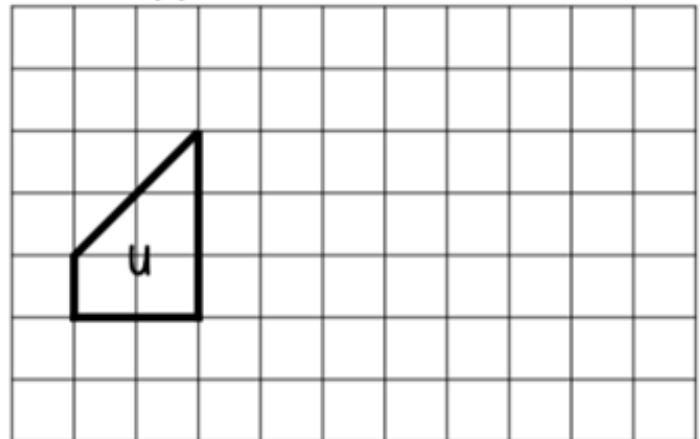
une figure dont l'aire mesure 9 u



une figure dont l'aire mesure 20 u



une figure dont l'aire mesure 6 u



Exercices « EVALUATION »

E

Grandeurs et mesures – CM2

JE M'ÉVALUE	COMPÉTENCE	CODE
GM10	Je compare et je mesure des aires à l'aide d'un pavage.	

Exercice 1 : Exprime l'aire de chaque surface avec l'unité proposée.

A = unités d'aire
 B = unités d'aire
 C = unités d'aire
 D = unités d'aire
 E = unités d'aire

Exercice 2 : Range ces surfaces de la plus petite à la plus grande.

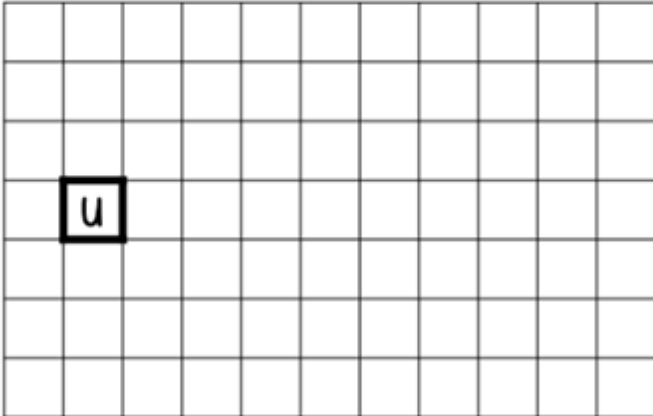
- A = unités d'aire
- B = unités d'aire
- C = unités d'aire
- D = unités d'aire
- E = unités d'aire

Rangement

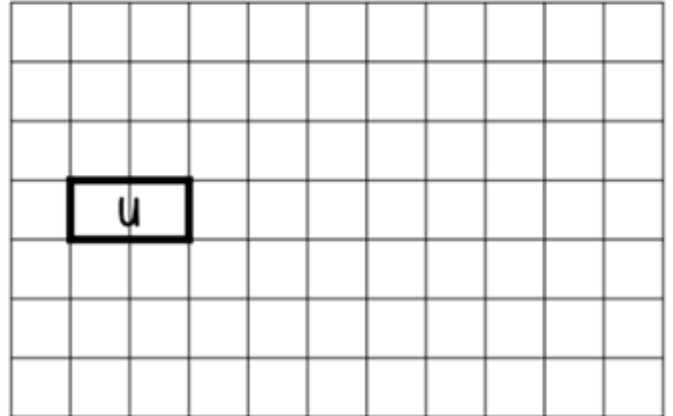
< < < <

Exercice 3 : Observe la figure A puis trace les figures demandées.

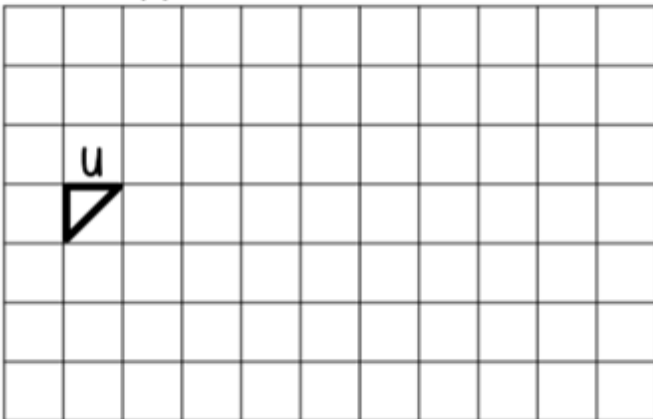
une figure dont l'aire mesure 26 u



une figure dont l'aire mesure 12 u



une figure dont l'aire mesure 19 u



une figure dont l'aire mesure 7 u

