

Exercices Autocorrectifs « Je progresse »

1

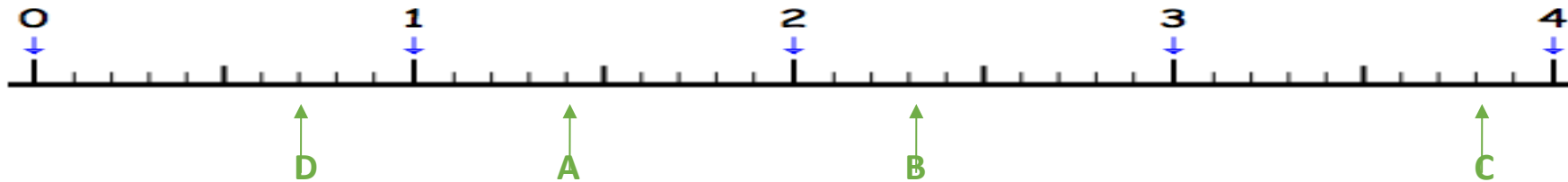
Nombres et Calculs CM2 - corrigés

Nombre de réussites	16	De 12 à 15	De 5 à 11	<5
Code de validation	●	●	●	●

JE PROGRESSE	COMPÉTENCE	CODE
ND2	Je repère et je place des nombres décimaux sur une ligne graduée.	

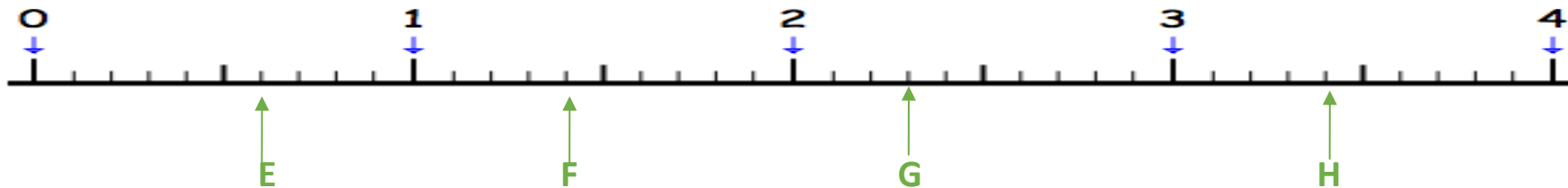
Exercice 1 : Place les lettres A, B, C et D qui correspondent aux nombres suivants.

A : 1,4 B : 2,3 C : 3,8 D : 0,7



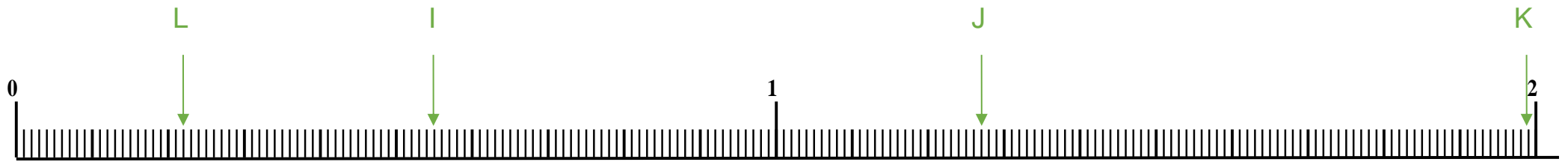
Exercice 2 : Retrouve sur la ligne graduée, les nombres qui permettent de repérer :

E : 0,6 F : 1,4 G : 2,3 H : 3,4



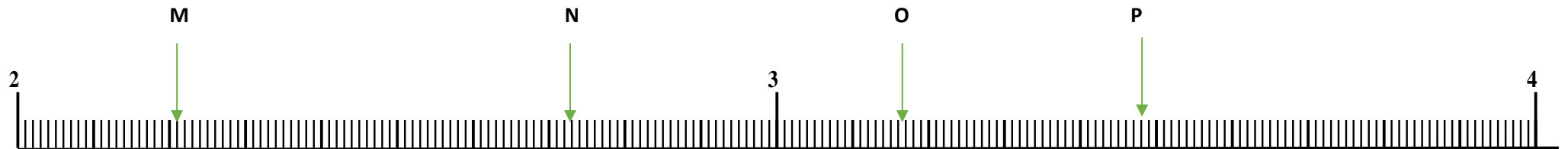
Exercice 3 : Place les lettres I, J, K et L qui correspondent aux nombres suivants.

I : 0,55 J : 1,27 K : 1,99 L : 0,22



Exercice 4 : Retrouve sur la ligne graduée, les nombres qui permettent de repérer :





M : 2,21 N : 2,73 O : 3,17 P : 3,48



Exercices Autocorrectifs « Je progresse »

Nombres et Calculs CM2 - corrigés

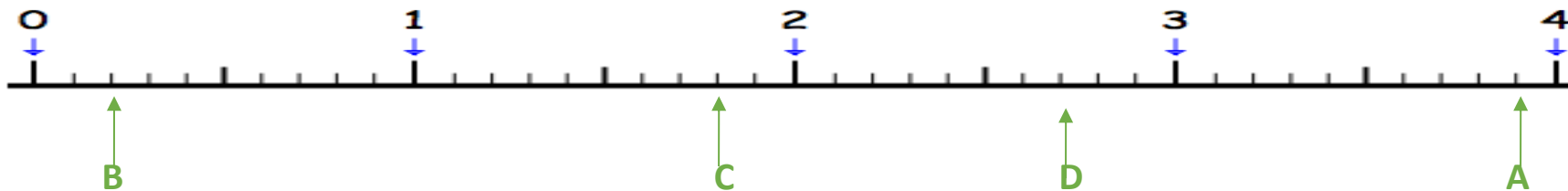
2

Nombre de réussites	16	De 12 à 15	De 5 à 11	<5
Code de validation				

JE PROGRESSE	COMPÉTENCE	CODE
ND2	Je repère et je place des nombres décimaux sur une ligne graduée.	

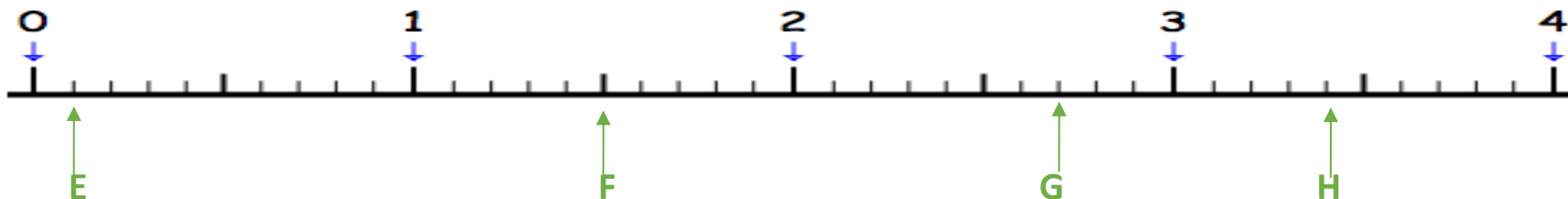
Exercice 1 : Place les lettres A, B, C et D qui correspondent aux nombres suivants.

A : 3,9 B : 0,2 C : 1,8 D : 2,7



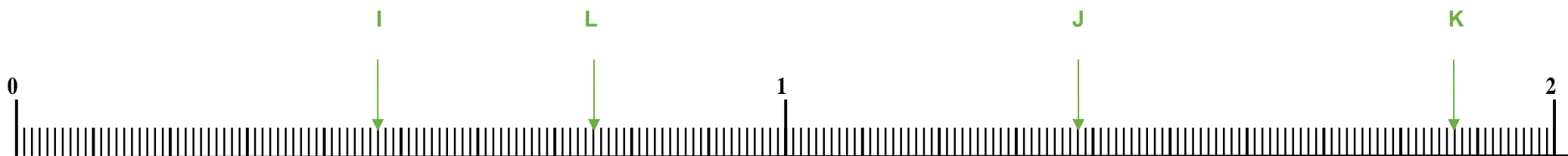
Exercice 2 : Retrouve sur la ligne graduée, les nombres qui permettent de repérer :

E : 0,1 F : 1,5 G : 2,7 H : 3,4



Exercice 3 : Place les lettres I, J, K et L qui correspondent aux nombres suivants.

I : 0,47 J : 1,38 K : 1,87 L : 0,75



Exercice 4 : Retrouve sur la ligne graduée, les nombres qui permettent de repérer :





M : 2,15 N : 3,79 O : 2,29 P : 3,79



Exercices « EVALUATION »

E

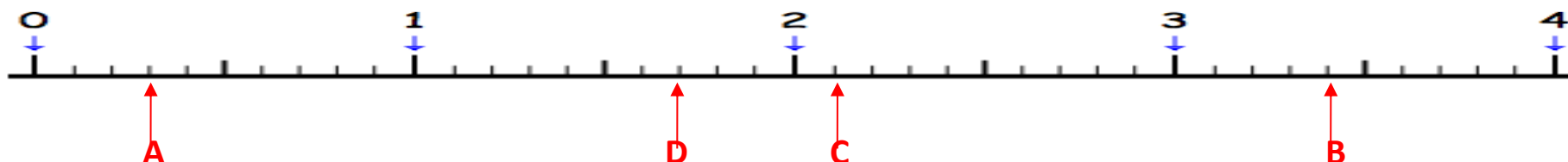
Nombres et Calculs CM2 - corrigés

Nombre de réussites	16	De 12 à 15	De 5 à 11	<5
Code de validation				

JE M'EVALUE	COMPÉTENCE	CODE
ND2	Je repère et je place des nombres décimaux sur une ligne graduée.	

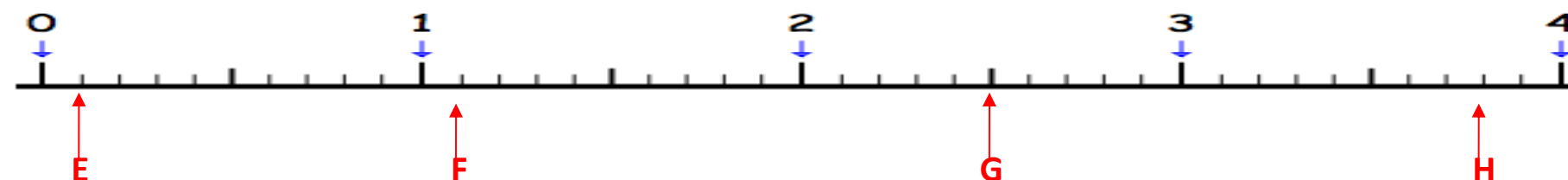
Exercice 1 : Place les lettres A, B, C et D qui correspondent aux nombres suivants.

A : 0,3 B : 3,4 C : 2,1 D : 1,7



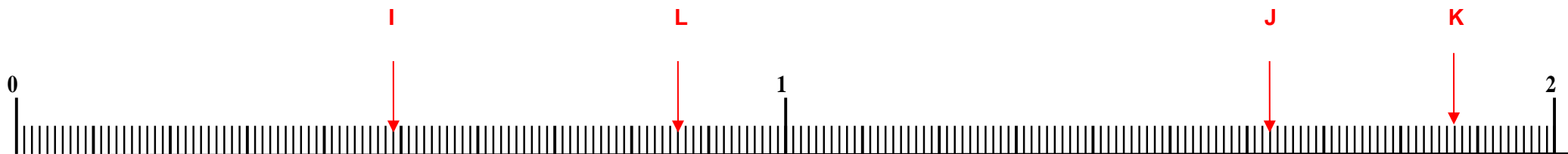
Exercice 2 : Retrouve sur la ligne graduée, les nombres qui permettent de repérer :

E : **0,1** F : **1,1** G : **2,5** H : **3,8**



Exercice 3 : Place les lettres I, J, K et L qui correspondent aux nombres suivants.

I : 0,49 J : 1,63 K : 1,87 L : 0,86



Exercice 4 : Retrouve sur la ligne graduée, les nombres qui permettent de repérer :

M : **2,04** N : **2,68** O : **3,04** P : **3,35**

