

## Exercices Autocorrectifs « Je progresse »

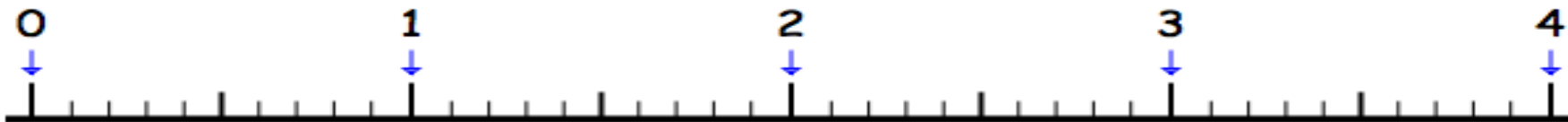
## 1

## Nombres et Calculs – CM2

JE PROGRESSE	COMPÉTENCE	CODE
ND2	Je repère et je place des nombres décimaux sur une ligne graduée.	

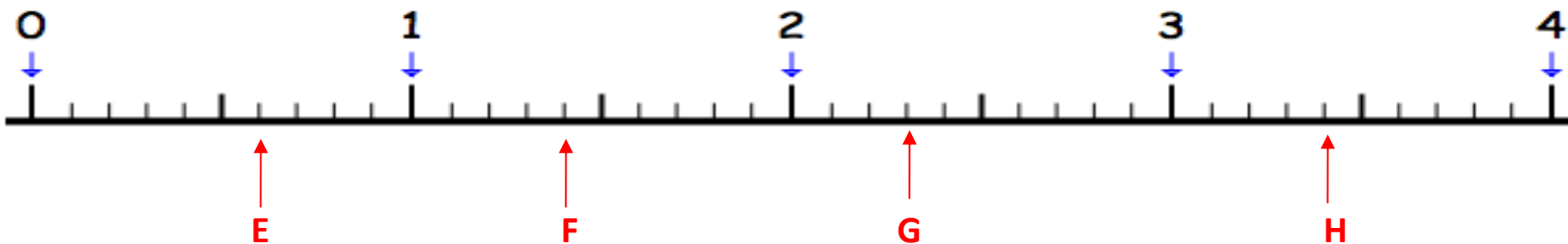
**Exercice 1 :** Place les lettres A, B, C et D qui correspondent aux nombres suivants.

A : 1,4 B : 2,3 C : 3,8 D : 0,7



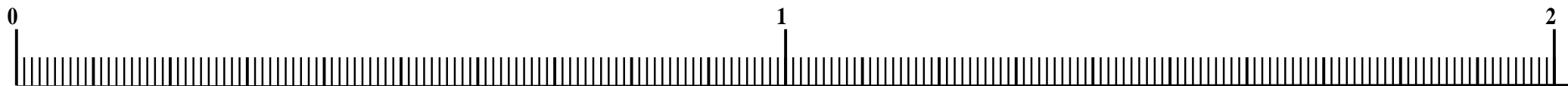
**Exercice 2 :** Retrouve sur la ligne graduée, les nombres qui permettent de repérer :

E : \_\_\_\_\_ F : \_\_\_\_\_ G : \_\_\_\_\_ H : \_\_\_\_\_



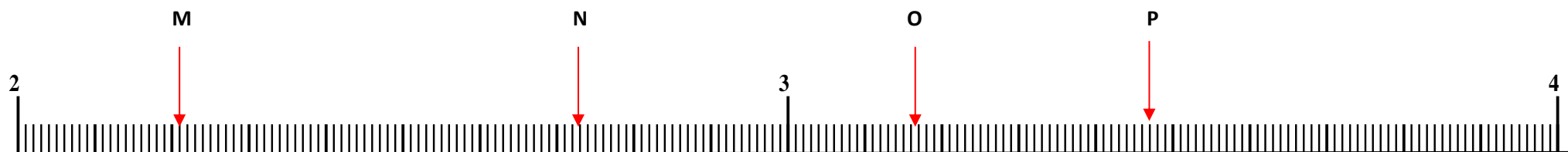
**Exercice 3 :** Place les lettres I, J, K et L qui correspondent aux nombres suivants.

I : 0.55    J : 1,27    K : 1,99    L : 0,22



**Exercice 4:** Retrouve sur la ligne graduée, les nombres qui permettent de repérer :

M : \_\_\_\_\_    N : \_\_\_\_\_    O : \_\_\_\_\_    P : \_\_\_\_\_



## Exercices Autocorrectifs « Je progresse »

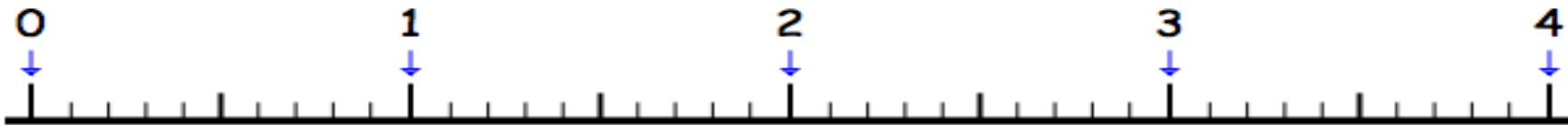
## Nombres et Calculs – CM2

## 2

JE PROGRESSE	COMPÉTENCE	CODE
ND2	Je repère et je place des nombres décimaux sur une ligne graduée.	

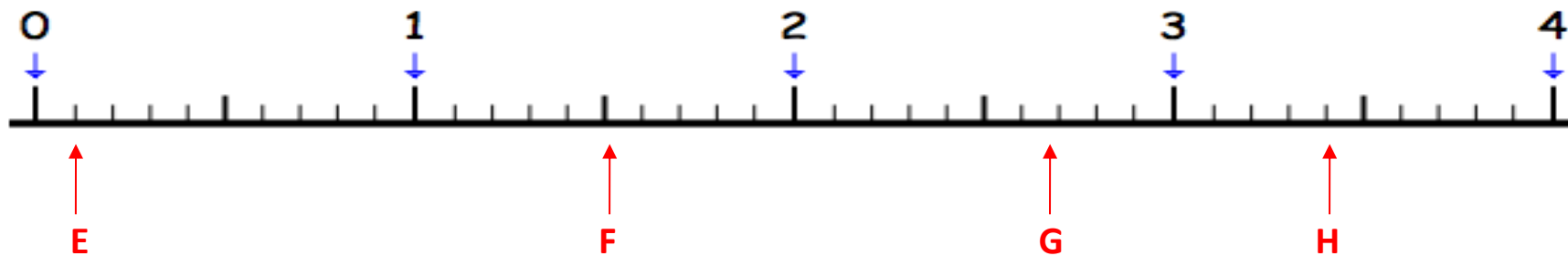
**Exercice 1 :** Place les lettres A, B, C et D qui correspondent aux nombres suivants.

A : 3,9 B : 0,2 C : 1,8 D : 2,7



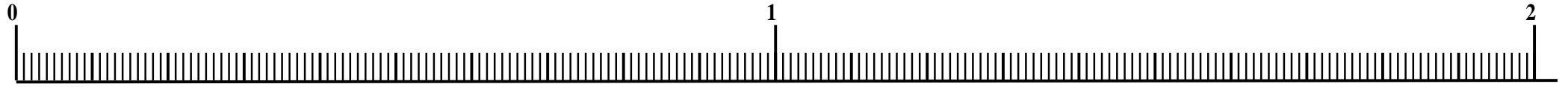
**Exercice 2 :** Retrouve sur la ligne graduée, les nombres qui permettent de repérer :

E : \_\_\_\_\_ F : \_\_\_\_\_ G : \_\_\_\_\_ H : \_\_\_\_\_



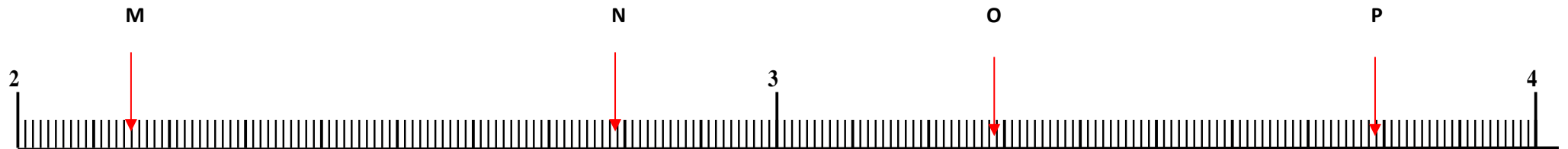
**Exercice 3 :** Place les lettres I, J, K et L qui correspondent aux nombres suivants.

I : 0,47    J : 1,38    K : 1,87    L : 0,75



**Exercice 4 :** Retrouve sur la ligne graduée, les nombres qui permettent de repérer :

M : \_\_\_\_\_    N : \_\_\_\_\_    O : \_\_\_\_\_    P : \_\_\_\_\_



## Exercices « EVALUATION »

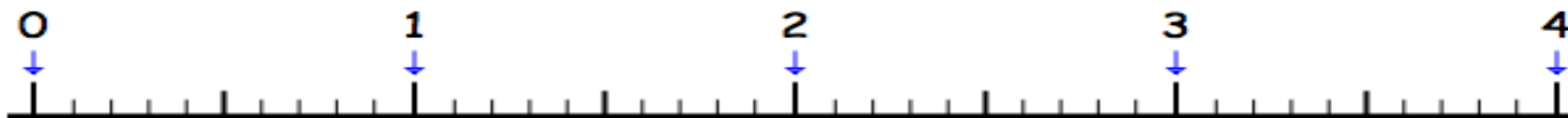
E

## Nombres et Calculs – CM2

JE M'EVALUE	COMPÉTENCE	CODE
ND2	Je repère et je place des nombres décimaux sur une ligne graduée.	

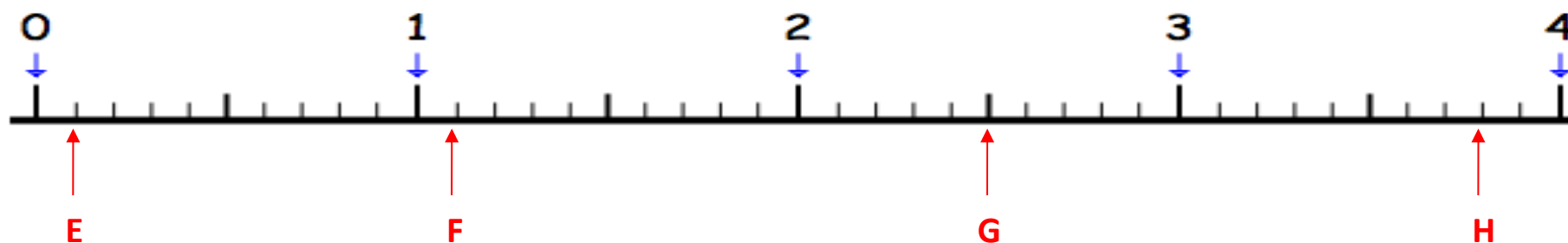
**Exercice 1 :** Place les lettres A, B, C et D qui correspondent aux nombres suivants.

A : 0,3 B : 3,4 C : 2,1 D : 1,7



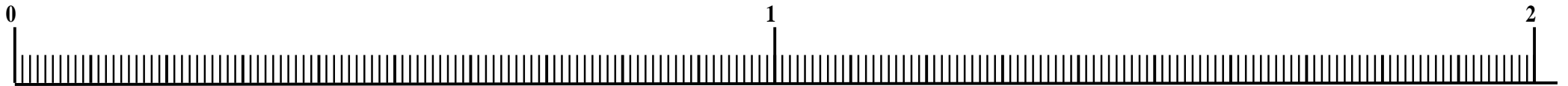
**Exercice 2 :** Retrouve sur la ligne graduée, les nombres qui permettent de repérer :

E : \_\_\_\_\_ F : \_\_\_\_\_ G : \_\_\_\_\_ H : \_\_\_\_\_



**Exercice 3 :** Place les lettres I, J, K et L qui correspondent aux nombres suivants.

I : 0,49    J : 1,63    K : 1,87    L : 0,86



**Exercice 4 :** Retrouve sur la ligne graduée, les nombres qui permettent de repérer :

M : \_\_\_\_\_    N : \_\_\_\_\_    O : \_\_\_\_\_    P : \_\_\_\_\_

