

Nom – Prénom : _____

MATHÉMATIQUES

Numération CM2 - « Je m'entraîne »

JE M'ENTRAÎNE	COMPÉTENCE	CODE
NE6	Je compare et je range les grands nombres supérieurs au milliard.	

Exercice 1 : Complète avec > ou <.

- a. 4 512 000 850 154 985 675
- b. 14 065 320 980 14 065 360 000
- c. 14 660 777 000 14 670 000 000
- d. 987 685 765 1 000 080 300

Exercice 2 : Tu dois utiliser tous ces chiffres une seule fois chacun.

0 1 2 3 4 5 6 7 8 9

Ecris le nombre

- le plus petit :
- le plus grand :





Exercice 3 : Voici les chiffres d'affaires annuels d'un grand groupe de supermarchés.

Range ces montants dans l'ordre croissant.

Années	Chiffres d'affaire en Euros
2014	82 668 000 000
2015	84 300 000 000
2016	83 999 000 000
2017	86 294 000 000

Nom – Prénom : _____

Numération CM2 - « Je m'entraîne »

Nombre de réussites	7	De 5 à 6	2 à 4	< 2
Code de validation				

JE M'ENTRAINE	COMPÉTENCE	CODE
NE6	Je compare et je range les grands nombres supérieurs au milliard.	

Exercice 1 : Complète avec > ou <.

- a. 4 512 000 850 > 154 985 675
- b. 14 065 320 980 < 14 065 360 000
- c. 14 660 777 000 < 14 670 000 000
- d. 987 685 765 < 1 000 080 300

Exercice 2 : Tu dois utiliser tous ces chiffres une seule fois chacun.

0 1 2 3 4 5 6 7 8 9

Ecris le nombre

- le plus petit : **1 023 456 789 (ou 0 123 456 789)**
- le plus grand : **9 876 543 210**

Exercice 3 : Voici les chiffres d'affaires annuels d'un grand groupe de supermarchés.

Range ces montants dans l'ordre croissant.

Années	Chiffres d'affaire en Euros
2014	82 668 000 000
2015	84 300 000 000
2016	83 999 000 000
2017	86 294 000 000

82 668 000 000 – 83 999 000 000 – 84 300 000 000 – 86 294 000 000