

Nom - Prénom : _____

MATHÉMATIQUES

Nombres et Calculs CM2 - « Je m'entraîne »

JE M'ENTRAINE	COMPÉTENCE	CODE
CP1	Je maîtrise la technique de l'addition posée.	

Exercice 1 : Calcule avec la méthode de ton choix.

a. $4\ 250 + 50 + 3\ 200 =$ _____

b. $8\ 658 + 986 =$ _____

c. $47\ 805 + 8\ 975 + 589 =$ _____

	○	○	○	
+				
+				

	○	○	○	
+				

	○	○	○	○	
+					
+					

Exercice 2 : Recopie et complète cette « addi-grille ».

Chaque flèche pointe vers la somme des nombres de la ligne ou de la colonne.

Tu dois trouver le même résultat dans les deux cases orange.





	2085	8 303	20 602	→	
	25 560	8 732	12 608	→	
	786	3 025	5 189	→	
	↓	↓	↓		↓
←					

Diagram showing 10 empty addition grids for copying and completion. Each grid has 5 columns and 3 rows. Above the columns are colored circles: yellow, grey, green, red, and blue. The grids are arranged in three rows of three, with the last two cells in the bottom row empty.

Nom - Prénom : _____

MATHÉMATIQUES

Nombres et Calculs CM2 - « Je m'entraîne » CORRIGÉS

Nombre de réussites	11	De 8 à 10	De 3 à 7	< 3
Code de validation				

JE M'ENTRAINE	COMPÉTENCE	CODE
CP1	Je maîtrise la technique de l'addition posée.	












Exercice 1 : Calcule avec la méthode de ton choix.

- a. $4\,250 + 50 + 3\,200 = 7\,500$
- b. $8\,658 + 986 = 9\,644$
- c. $47\,805 + 8\,975 + 589 = 57\,369$

Exercice 2 : Recopie et complète cette addi-grille.

Chaque flèche pointe vers la somme des nombres de la ligne ou de la colonne.

Tu dois trouver le même résultat dans les deux cases orange.

	2085	8 303	20 602		30 990
	25 560	8 732	12 608		46 900
	786	3 025	5 189		9 000
					
 86 890 		28 431	20 060	38 399	 86 890 